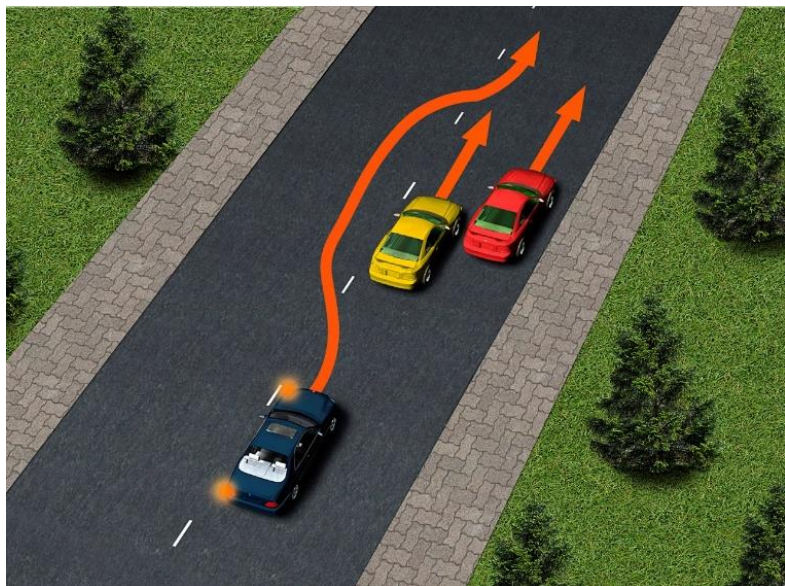


## Вопросы олимпиады ПДД

Выберите один из вариантов ответа. Вместе с бланком регистрации отправьте бланк ответа на электронную почту [kafodd@gmail.com](mailto:kafodd@gmail.com) с 08.12.2021 по 15.12.21 до 9.00.

1 Кто нарушает правила в данной ситуации на загородной дороге с двусторонним движением, если боковой интервал обеспечивает безопасность движения? (красный автомобиль движется со скоростью 75 км/ч, желтый автомобиль движется со скоростью 70 км/ч, синий автомобиль выполняет обгон на скорости 90 км/ч)



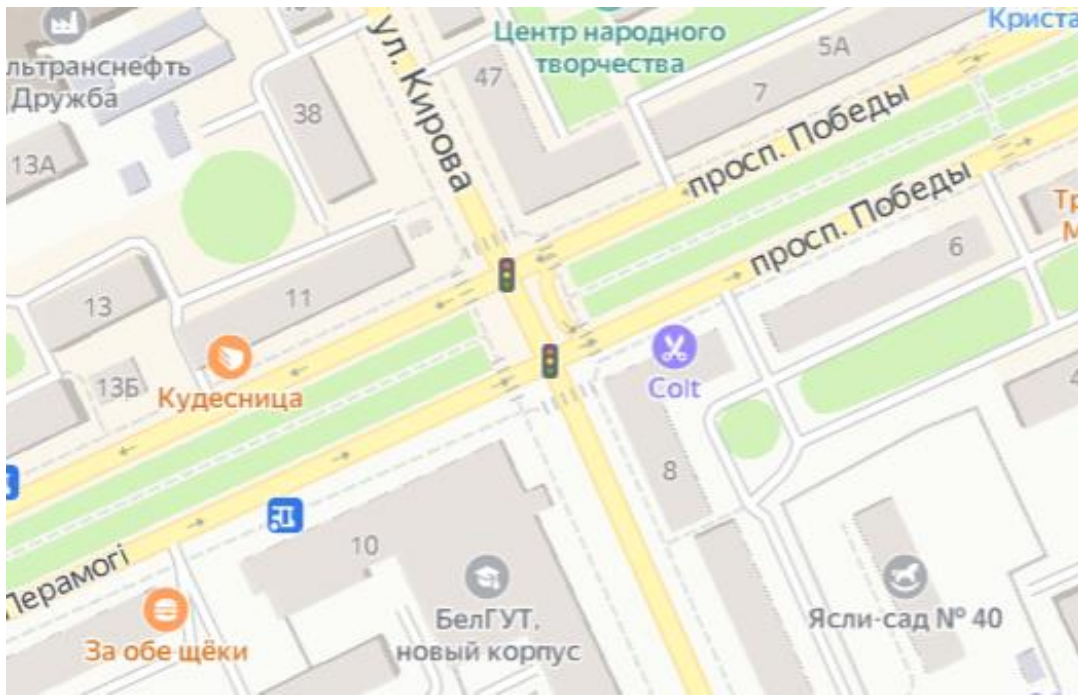
- 1 Красный автомобиль
- 2 Желтый автомобиль
- 3 Синий автомобиль
- 4 Синий и желтый автомобили
- 5 Красный и синий
- 6 Желтый и красный
- 7 Все нарушают

2 Кто из водителей не нарушил правила остановки у тротуара?



1. Только водитель автомобиля А, если не создает препятствие для движения трамваев
2. Только водитель автомобиля Б
3. Оба водителя
4. Оба водителя нарушили

3 На перекрестке проспект Победы – ул.Кирова разворот можно выполнить:



- 1 Только с одного направления
- 2 С двух направлений
- 3 С трех направлений
- 4 Со всех четырех направлений

4 Водители движутся с включенным ближним светом фар 26 августа 2021 года. Данная ситуация, приведенная на рисунке, возможна:



- 1 Только на территории Российской Федерации
- 2 Только на территории Республики Беларусь
- 3 Как на территории Российской Федерации, так и Республики Беларусь




5 В каких направлениях можно продолжить движение в данной ситуации?



- 1 Прямо и налево
- 2 Прямо, налево и на разворот
- 3 Прямо, налево и направо
- 4 Прямо, налево, направо и на разворот

6 Обязан ли водитель легкового автомобиля в данной ситуации уступить автобусу, отъезжающему от остановочного пункта?



- 1 Обязан
- 2 Не обязан
- 3 Обязан, при условии, что автобус включит указатель поворота
- 4 Обязан, при условии, что автобус является маршрутным транспортным средством

7 Разрешается ли водителю синего легкового автомобиля выполнить обгон красного автомобиля в данной ситуации?



- 1 Разрешается, пропустив встречный транспорт, если красный автомобиль движется со скоростью менее 30 км/ч
- 2 Разрешается, пропустив встречный транспорт, если красный автомобиль движется со скоростью не менее 30 км/ч
- 3 Разрешается, пропустив встречный транспорт, если красный автомобиль движется со скоростью не более 30 км/ч
- 4 Запрещается


8 Кто должен уступить дорогу в данной ситуации?



- 1 Водитель велосипеда
- 2 Водитель легкового автомобиля



9 Разрешается ли водителю легкового автомобиля развернуться в данной ситуации?



- 1 Разрешается
- 2 Запрещается
- 3 Разрешается, если автомобиль не наедет на желтую разметку, обозначающую остановочный пункт маршрутных транспортных средств

10. Водитель имеет водительское удостоверение, выданное 17.03.2012. Это уже третье водительское удостоверение, которое он получал взамен после окончания срока действия предыдущих. Как в соответствии с законодательством он обязан поступить?

- 1 Обязан до 17 марта 2022 года провести замену в ГАИ
- 2 Обязан до 17 сентября 2022 года провести замену в ГАИ
- 3 Может не менять водительское удостоверение, так как оно уже считается постоянным без ограничения срока действия
- 4 Обязан до 17 марта 2022 года обратиться в ГАИ для замены с обязательной сдачей теоретического экзамена